



Arrumando laranjas

1 - Numa frutaria da D. Clementina, as laranjas vão ser expostas para venda em caixas idênticas à da figura.



Com 36 laranjas quantas caixas se enchem?

E com 72 laranjas?

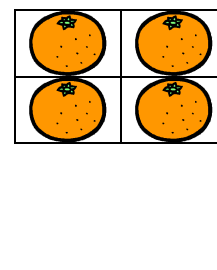
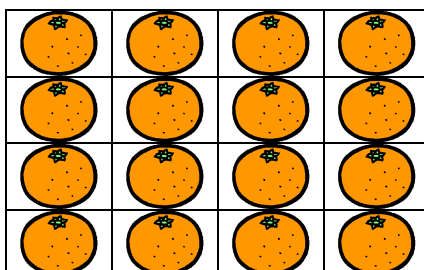
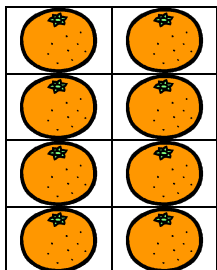
E com 90 laranjas?

E se forem 18 laranjas?

E se forem 135 laranjas?

Nesta situação o nº de laranjas por caixa, o divisor, era sempre o mesmo. Que podes concluir sobre o dividendo e o quociente?

2 - Para arrumar melhor a fruta a D. Clementina vai escolher comprar caixas de 8, de 16 ou de 4.



Com 144 laranjas, quantas caixas de cada um dos tipos vai precisar?

Nesta situação o nº de laranjas a distribuir, o dividendo, era sempre o mesmo.

Que podes concluir sobre o divisor e o quociente?