

13. Das letras seguintes, assinala com X a que tem um eixo de simetria.

D

N

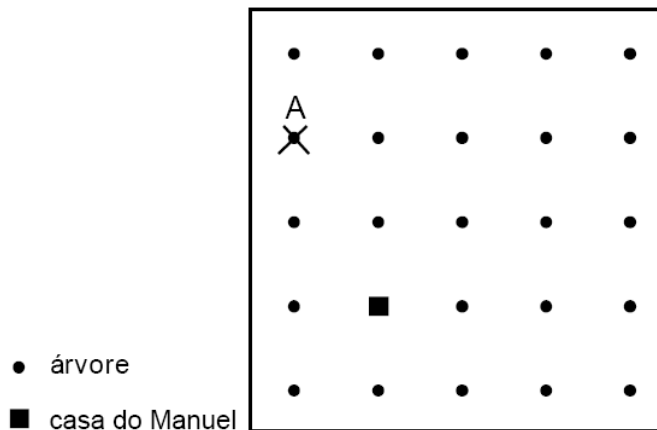
S

Z

in Prova de Aferição 2005

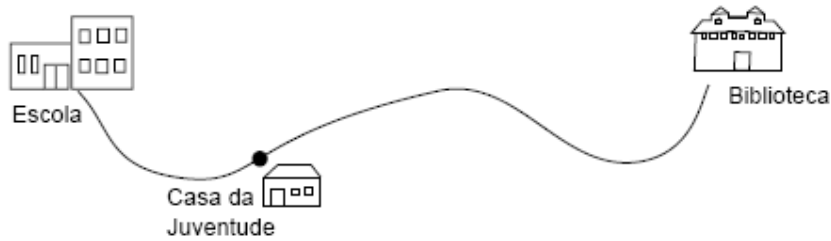
A figura mostra a localização da casa do Manuel e das árvores que a rodeiam. Existem três laranjeiras que estão plantadas à mesma distância da casa do Manuel. O ponto A representa o local onde está plantada uma dessas laranjeiras.

Assinala com X, na figura, dois locais onde podem estar plantadas as outras duas laranjeiras.




in Prova de Aferição 2003

6. Depois das aulas, a Amélia saiu da Escola e foi à Biblioteca. A figura seguinte é um esquema, à escala, do caminho que ela seguiu.



No caminho, a Amélia viu o seguinte sinal.



- 6.1. Quantos **quilómetros** andou a Amélia desde a Escola até à Biblioteca?  
 Explica como chegaste à tua resposta. Podes fazê-lo utilizando palavras, esquemas ou cálculos.

Resposta: \_\_\_\_\_ km

- 6.2. Assinala com **X**, no esquema do caminho, representado acima, o local onde se encontra, aproximadamente, o sinal que a Amélia viu.

in Prova de Aferição 2006